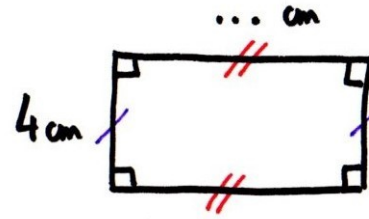
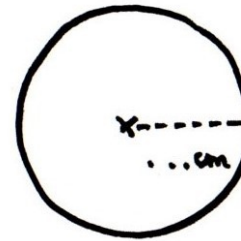


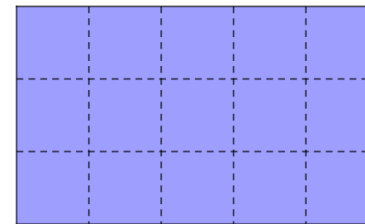
NIVEAU A




Le périmètre est 20 cm.

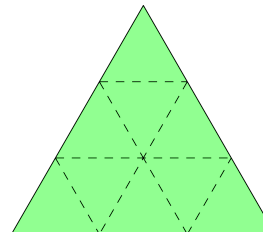



Le périmètre est $10x\pi$ cm.




 = 1 u a


L'aire du grand rectangle bleu
est ... u a.



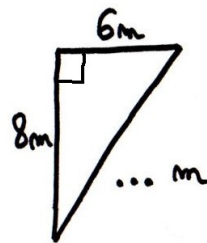
 = 1 u a

L'aire du grand triangle vert est ... u a.

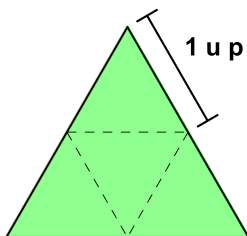


 = 1 u a

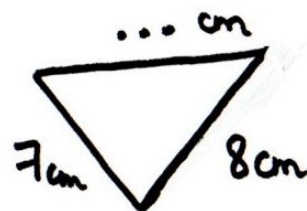
L'aire du grand carré rose est ... u a.



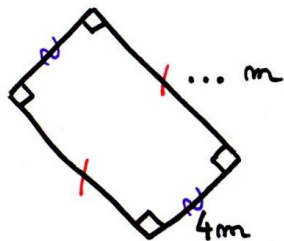
Le périmètre est 24 m.



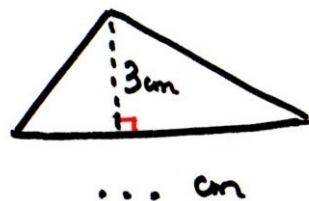
Le périmètre du grand triangle vert est ... u p.



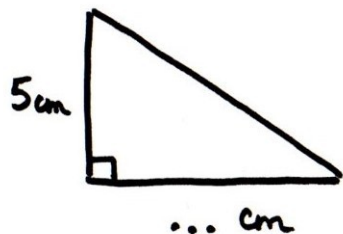
Le périmètre est 26 cm.



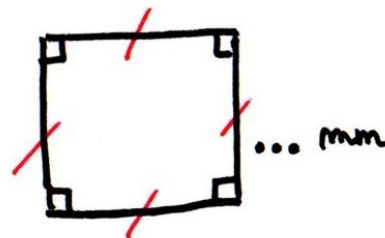
L'aire est 20 m².



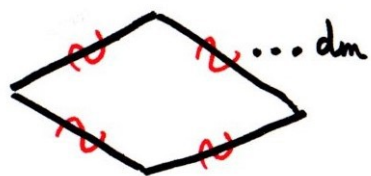
L'aire est 15 cm².



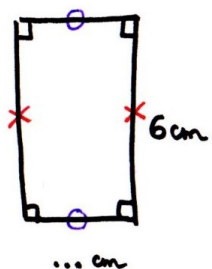
L'aire est 20 cm².




L'aire est 49 mm².



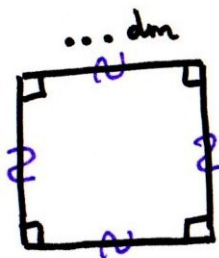
Le périmètre est 36 dm.



Le périmètre est 20 cm.



Le périmètre est $8 \times \pi$ cm.

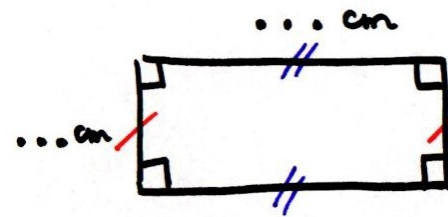


Le périmètre est 20 dm.

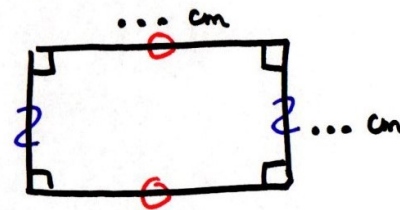
Liste des réponses attendues :

Carte N°	Réponse
1	6
2	5
3	15
4	9
5	9
6	6
7	5
8	8
9	10
10	11
11	10
12	7
13	9
14	4
15	8
16	5

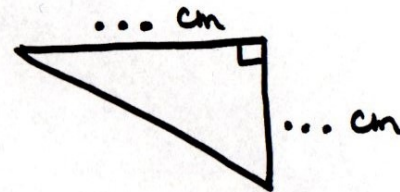
NIVEAU B



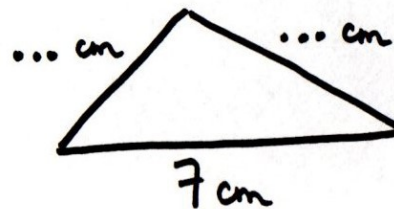
L'aire est 18 cm^2 .



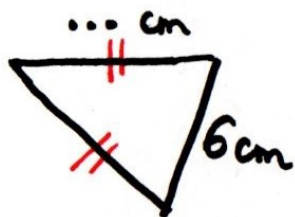
Le périmètre est 18 cm.



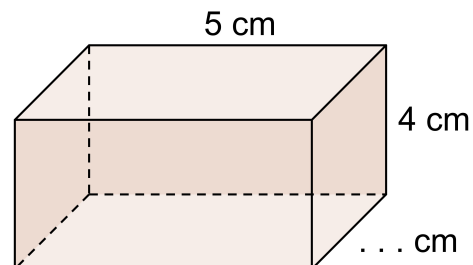
L'aire est 12 cm^2 .



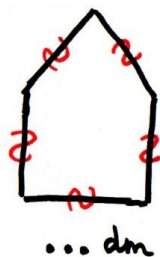
Le périmètre est 15 cm.



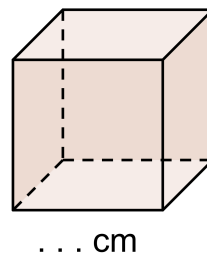
Le périmètre est 20 cm.



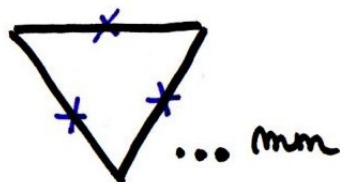
Le volume de ce pavé est 60 cm^3 .



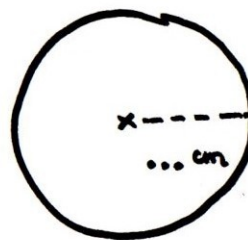
Le périmètre est 30 dm.



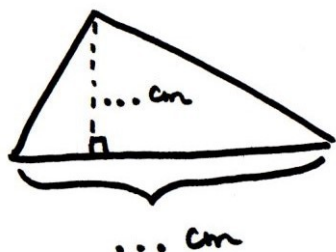
Le volume de ce cube est 27 cm^3 .



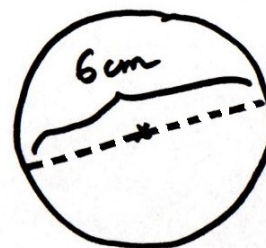
Le périmètre est 24 mm.




L'aire est $36 \times \pi \text{ cm}^2$.



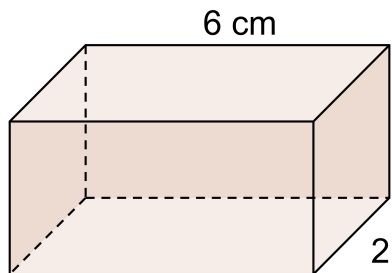
L'aire est 10 cm^2 .



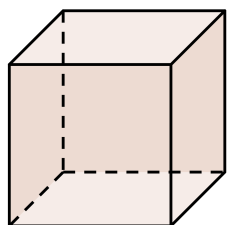
Le périmètre est $2 \times \dots \times \pi \text{ cm}$.



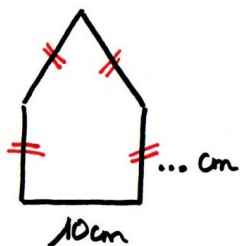
L'aire est 24 cm^2 .



... cm Le volume de ce pavé est 60 cm^3 .



Le volume de ce cube est ... dm^3 .



Le périmètre est 46 cm.

Liste des réponses attendues :

Carte N°	Réponses
1	6 et 3 ou 9 et 2
2	1 et 8 ou 2 et 7 ou 3 et 6 ou 4 et 5
3	3 et 8 ou 6 et 4 ou 12 et 2
4	1 et 7 ou 2 et 6 ou 3 et 5 ou 4 et 4
5	7
6	6
7	8
8	4 et 5 ou 10 et 2
9	3
10	3
11	6
12	3
13	6 et 8 ou 3 et 16 ou 4 et 12 ou 2 et 24
14	5
15	8
16	9